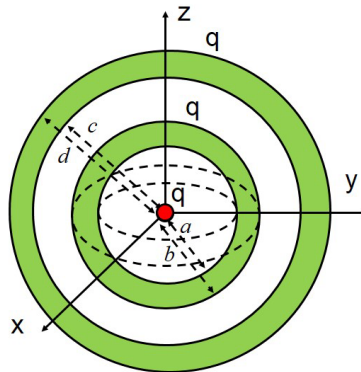


4.- Electrostática de materiales conductores

• **Problema 4.1**

Una carga puntual q está situada en el centro geométrico de dos cortezas esféricas metálicas conductoras que contienen a su vez una carga q como se muestra en la figura. La corteza interior tiene radios a y $b > a$, la exterior $c > b$ y $d > c$. Se pide determinar:

- 1) La distribución de la carga eléctrica en cada corteza esférica.
- 2) El campo y potencial eléctricos en todo punto del espacio.



Solución :

$$1) \quad \sigma_a = -\frac{q}{4\pi a^2} \quad \sigma_b = \frac{2q}{4\pi b^2} \quad \sigma_c = -\frac{2q}{4\pi c^2} \quad \sigma_d = \frac{3q}{4\pi d^2}$$

2) Coordenadas esféricas:

$$r > d \quad \mathbf{E} = \frac{1}{4\pi\epsilon_0} \frac{3q}{r^2} \mathbf{e}_r \quad ; \quad V = \frac{1}{4\pi\epsilon_0} \frac{3q}{r}$$

$$d > r > c \quad \mathbf{E} = 0 \quad ; \quad V = \frac{1}{4\pi\epsilon_0} \frac{3q}{d}$$

$$c > r > b \quad \mathbf{E} = \frac{1}{4\pi\epsilon_0} \frac{2q}{r^2} \mathbf{e}_r \quad ; \quad V = \frac{1}{4\pi\epsilon_0} \left(\frac{3q}{d} + \frac{2q}{r} - \frac{2q}{c} \right)$$

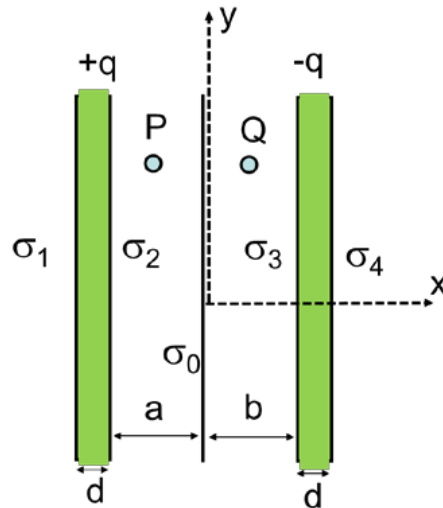
$$b > r > a \quad \mathbf{E} = 0 \quad ; \quad V = \frac{1}{4\pi\epsilon_0} \left(\frac{3q}{d} + \frac{2q}{b} - \frac{2q}{c} \right)$$

$$a > r \quad \mathbf{E} = \frac{1}{4\pi\epsilon_0} \frac{q}{r^2} \mathbf{e}_r \quad ; \quad V = \frac{1}{4\pi\epsilon_0} \left(\frac{3q}{d} + \frac{2q}{b} - \frac{2q}{c} + \frac{q}{r} - \frac{q}{a} \right)$$

• **Problema 4.2**

Entre dos placas metálicas de espesor d con carga $+q$ y $-q$ se introduce una lámina de carga con densidad superficial σ_o y espesor despreciable como muestra la figura. La distribución de la carga eléctrica sobre las superficies metálicas uniforme y su superficie $S \gg (a+b)^2$ muy grande. Se pide:

- Determinar las densidades de carga sobre las superficies metálicas $\sigma_1, \sigma_2, \sigma_3$ y σ_4 de la figura.
- Calcular el campo eléctrico en el espacio entre las placas (puntos P y Q de la figura) empleando el principio de superposición.
- Verificar el resultado anterior empleando la ley de Gauss.
- Calcular el potencial eléctrico $V(x)$ en todo punto del espacio, considerando que en $x = 0$ es nulo.



Solución :

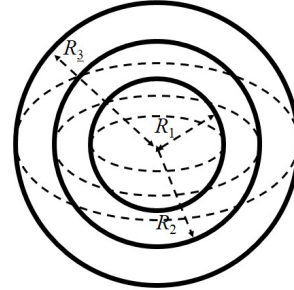
$$a) \quad \sigma_1 = \sigma_4 = \frac{\sigma_o}{2} \quad ; \quad \sigma_2 = \frac{q}{S} - \frac{\sigma_o}{2} \quad ; \quad \sigma_3 = -\frac{q}{S} - \frac{\sigma_o}{2}$$

$$b) \quad \mathbf{E}(P) = \frac{\sigma_2}{\epsilon_o} \mathbf{i} \quad ; \quad \mathbf{E}(Q) = -\frac{\sigma_3}{\epsilon_o} \mathbf{i}$$

$$c) \quad \begin{aligned} 0 < x < b & \quad V(x) = \frac{\sigma_3}{\epsilon_o} x \\ b \leq x \leq d & \quad V(x) = \frac{\sigma_3}{\epsilon_o} b \\ (b+d) < x & \quad V(x) = \frac{\sigma_3}{\epsilon_o} b - \frac{\sigma_4}{\epsilon_o} (x - b - d) \\ -a < x < 0 & \quad V(x) = -\frac{\sigma_2}{\epsilon_o} x \\ -(a+d) \leq x \leq -a & \quad V(x) = \frac{\sigma_2}{\epsilon_o} a \\ x < -a & \quad V(x) = \frac{\sigma_2}{\epsilon_o} a + \frac{\sigma_1}{\epsilon_o} (x + a + d) \end{aligned}$$

• **Problema 4.3**

En el sistema de la figura está formado por tres superficies metálicas esféricas concéntricas de radios $R_3 > R_2 > R_1$ y espesor despreciable. Se sabe que el campo eléctrico para $r > R_3$ es nulo y se pide:



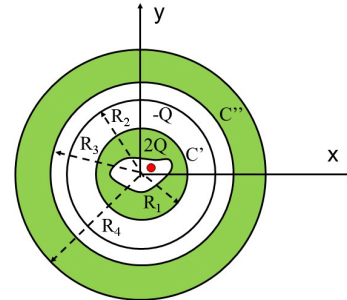
- a) Calcular la carga eléctrica de cada superficie si valor de del potencial eléctrico de cada una es $V_1 = V(R_1)$, $V_2 = V(R_2)$ y $V_3 = V(R_3)$ respectivamente.
- b) Calcular la capacidad del sistema formado al conectar mediante un cable conductor la segunda y tercera superficie para formar un condensador esférico.
- c) Calcular su energía electrostática para diferencia de potencial $\Delta V = V_1 - V_2$.

Solución :

- a) $q_1 = \frac{4\pi\epsilon_0 R_1 R_2}{R_2 - R_1} (V_2 - V_1) \quad ; \quad q_2 = -q_1 + \frac{4\pi\epsilon_0 R_3 R_2}{R_3 - R_2} V_2 \quad ; \quad q_3 = -(q_1 + q_2)$
- b) $C = \frac{4\pi\epsilon_0 R_2 R_1}{R_2 - R_1}$
- c) $U_e = \frac{C}{2} (V_1 - V_2)^2$

• **Problema 4.4**

Un conductor esférico C' de radio R_1 y con carga $2Q$ tiene un hueco en su interior que contiene una carga puntual Q , no necesariamente en su centro. Está rodeado por una distribución superficial de carga de concéntrica de radio R_2 y carga $-Q$ de espesor despreciable. Otro conductor C'' de radios R_3 y R_4 y carga neta nula se trae desde el infinito hasta alcanzar la disposición de la figura. Se pide calcular:



- a) El valor del potencial eléctrico de los conductores C' y C'' .
- b) La energía necesario aportar para que el conductor C'' alcance la disposición indicada.

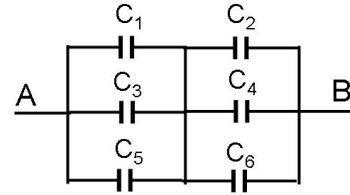
Solución :

- a) $V_{C'} = \frac{Q}{4\pi\epsilon_0} \left(\frac{3}{R_1} - \frac{1}{R_2} - \frac{2}{R_3} + \frac{2}{R_4} \right) \quad ; \quad V_{C''} = \frac{2Q}{4\pi\epsilon_0 R_4}$
- b) $\Delta E = -U_e = \frac{Q^2}{2\pi\epsilon_0} \left(\frac{1}{R_4} - \frac{1}{R_3} \right)$

• **Problema 4.5**

Para la red de condensadores de la figura de pide determinar:

- La capacidad equivalente entre los puntos A y B .
- La energía electrostática del sistema en el supuesto del apartado anterior.
- Indicar cómo se calcularía la carga estática de cada condensador conocida la diferencia de potencial $V_{AB} = V_o$.



Solución :

- $$C_{AB} = \frac{(C_1 + C_3 + C_5)(C_2 + C_4 + C_6)}{C_1 + C_2 + C_3 + C_4 + C_5 + C_6}$$
- $$U_e = \frac{1}{2} C_{AB} V_o^2$$